

ВСЕРОССИЙСКАЯ ОЛИМПИАДА ШКОЛЬНИКОВ  
ПРАВО. 2023–2024 уч. г.  
МУНИЦИПАЛЬНЫЙ ЭТАП. 10 КЛАСС  
ЗАДАНИЯ, ОТВЕТЫ, КРИТЕРИИ ОЦЕНИВАНИЯ  
**Максимальный балл за работу – 202.**

Задания 1–12

# 2019

Январь							Февраль							Март							Апрель												
Пн	Вт	Ср	Чт	Пт	Сб	Вс	Пн	Вт	Ср	Чт	Пт	Сб	Вс	Пн	Вт	Ср	Чт	Пт	Сб	Вс	Пн	Вт	Ср	Чт	Пт	Сб	Вс						
1	2	3	4	5	6		1	2	3					1	2	3	4	5	6	7							1	2	3	4	5	6	7
7	8	9	10	11	12	13	4	5	6	7	8	9	10	4	5	6	7	8	9	10							8	9	10	11	12	13	14
14	15	16	17	18	19	20	11	12	13	14	15	16	17	11	12	13	14	15	16	17							15	16	17	18	19	20	21
21	22	23	24	25	26	27	18	19	20	21	22	23	24	18	19	20	21	22	23	24							22	23	24	25	26	27	28
28	29	30	31				25	26	27	28				25	26	27	28	29	30	31							29	30					

Май							Июнь							Июль							Август												
Пн	Вт	Ср	Чт	Пт	Сб	Вс	Пн	Вт	Ср	Чт	Пт	Сб	Вс	Пн	Вт	Ср	Чт	Пт	Сб	Вс	Пн	Вт	Ср	Чт	Пт	Сб	Вс						
1	2	3	4	5			1	2						1	2	3	4	5	6	7							1	2	3	4	5	6	7
6	7	8	9	10	11	12	3	4	5	6	7	8	9	8	9	10	11	12	13	14							5	6	7	8	9	10	11
13	14	15	16	17	18	19	10	11	12	13	14	15	16	15	16	17	18	19	20	21							12	13	14	15	16	17	18
20	21	22	23	24	25	26	17	18	19	20	21	22	23	22	23	24	25	26	27	28							19	20	21	22	23	24	25
27	28	29	30	31			24	25	26	27	28	29	30	29	30	31											26	27	28	29	30	31	

Сентябрь							Октябрь							Ноябрь							Декабрь						
Пн	Вт	Ср	Чт	Пт	Сб	Вс	Пн	Вт	Ср	Чт	Пт	Сб	Вс	Пн	Вт	Ср	Чт	Пт	Сб	Вс	Пн	Вт	Ср	Чт	Пт	Сб	Вс
					1		1	2	3	4	5	6	1	2	3					1	2	3	4	5	6	7	
2	3	4	5	6	7	8	7	8	9	10	11	12	13	4	5	6	7	8	9	10	2	3	4	5	6	7	8
9	10	11	12	13	14	15	14	15	16	17	18	19	20	11	12	13	14	15	16	17	9	10	11	12	13	14	15
16	17	18	19	20	21	22	21	22	23	24	25	26	27	18	19	20	21	22	23	24	16	17	18	19	20	21	22
23	24	25	26	27	28	29	28	29	30	31				25	26	27	28	29	30	23	24	25	26	27	28	29	
30														30						30	31						

# 2020

Январь							Февраль							Март							Апрель						
Пн	Вт	Ср	Чт	Пт	Сб	Вс	Пн	Вт	Ср	Чт	Пт	Сб	Вс	Пн	Вт	Ср	Чт	Пт	Сб	Вс	Пн	Вт	Ср	Чт	Пт	Сб	Вс
		1	2	3	4	5					1	2						1			1	2	3	4	5		
6	7	8	9	10	11	12	3	4	5	6	7	8	9	2	3	4	5	6	7	8	6	7	8	9	10	11	12
13	14	15	16	17	18	19	10	11	12	13	14	15	16	9	10	11	12	13	14	15	13	14	15	16	17	18	19
20	21	22	23	24	25	26	17	18	19	20	21	22	23	16	17	18	19	20	21	22	20	21	22	23	24	25	26
27	28	29	30	31			24	25	26	27	28	29	23	24	25	26	27	28	29	27	28	29	30				
														30	31												

Май							Июнь							Июль							Август							
Пн	Вт	Ср	Чт	Пт	Сб	Вс	Пн	Вт	Ср	Чт	Пт	Сб	Вс	Пн	Вт	Ср	Чт	Пт	Сб	Вс	Пн	Вт	Ср	Чт	Пт	Сб	Вс	
				1	2	3	1	2	3	4	5	6	7	1	2	3	4	5									1	2
4	5	6	7	8	9	10	8	9	10	11	12	13	14	6	7	8	9	10	11	12	3	4	5	6	7	8	9	
11	12	13	14	15	16	17	15	16	17	18	19	20	21	13	14	15	16	17	18	19	10	11	12	13	14	15	16	
18	19	20	21	22	23	24	22	23	24	25	26	27	28	20	21	22	23	24	25	26	17	18	19	20	21	22	23	
25	26	27	28	29	30	31	29	30						27	28	29	30	31			24	25	26	27	28	29	30	
																				31								

Сентябрь							Октябрь							Ноябрь							Декабрь										
Пн	Вт	Ср	Чт	Пт	Сб	Вс	Пн	Вт	Ср	Чт	Пт	Сб	Вс	Пн	Вт	Ср	Чт	Пт	Сб	Вс	Пн	Вт	Ср	Чт	Пт	Сб	Вс				
					1	2					1	2	3	4						1						1	2	3	4	5	6
7	8	9	10	11	12	13	5	6	7	8	9	10	11	2	3	4	5	6	7	8	7	8	9	10	11	12	13				
14	15	16	17	18	19	20	12	13	14	15	16	17	18	9	10	11	12	13	14	15	14	15	16	17	18	19	20				
21	22	23	24	25	26	27	19	20	21	22	23	24	25	16	17	18	19	20	21	22	21	22	23	24	25	26	27				
28	29	30					26	27	28	29	30	31	23	24	25	26	27	28	29	28	29	30	31								
														30																	

Истец Иванов подал исковое заявление к ответчику Петрову **5 ноября 2019 г.** в N-ский районный суд в рамках гражданского судопроизводства. В **этот же день** судья оставил исковое заявление без движения **на 10 дней**, так как не была оплачена государственная пошлина. Так как подтверждение об уплате государственной пошлины не поступило в суд в день истечения срока, который был установлен судом на исправление недостатков, суд вернул исковое заявление.

**12 декабря 2019 г.** истец Иванов вновь подал исковое заявление к ответчику, но суд в этот же день опять оставил исковое заявление без движения **на 6 дней**. В этот раз истец исправил все недостатки **на 4-й день**, считая со дня, следующего за днём подачи искового заявления. Суд принял дело к рассмотрению и начал рассматривать его, по существу.

Резолютивная часть решения суда была объявлена **25 января 2020 г.**  
Мотивировочная часть – **28 января 2020 г.**

Ответьте на вопросы, используя календари 2019 и 2020 годов.

В календаре 2019 года нерабочие праздничные дни выделены красным фоном, выходные дни – оранжевым фоном.

В календаре 2020 года нерабочие праздничные дни выделены оранжевым фоном, выходные дни – красным цветом.

Ответы укажите в виде ДД.ММ.ГГГГ, например, 1 января 2020 года должно быть записано: 01.01.2020.

**1.** Когда началось течение срока на исправление недостатков, которые послужили основанием для оставления заявления без движения в первый раз?

**Ответ:** 06.11.2019. (комм.: ч.3 ст. 107 ГПК РФ «Течение процессуального срока, исчисляемого годами, месяцами или днями, начинается на следующий день после даты или наступления события, которыми определено его начало»)

**2.** Какого числа был последний день для исправления недостатков, которые послужили основанием для оставления искового заявления без движения?

**Ответ:** 19.11.2019. (комм.: абз. 2 ч.3 ст. 107 ГПК РФ «В сроки, исчисляемые днями, не включаются нерабочие дни, если иное не установлено настоящим Кодексом»)

**3.** Допускается ли обжалование судебного акта, которым суд оставляет исковое заявление без движения?

**Ответ:** нет, не допускается. (комм. ч.1 ст. 331 ГПК РФ «Определения суда первой инстанции могут быть обжалованы в суд апелляционной инстанции отдельно от решения суда сторонами и другими лицами, участвующими в деле (частная жалоба), а прокурором может быть принесено представление в случае, если: 1) это предусмотрено настоящим Кодексом; 2) определение суда исключает возможность дальнейшего движения дела»)

**4.** Какой акт вынес суд о возврате искового заявления? Напишите одно слово, родовое.

**Ответ:** определение.

**5.** Какой акт подаётся, если лицо не согласно с судебным актом суда о возврате искового заявления?

**Ответ:** частная жалоба.

**6.** Какого числа закончится срок, когда суд должен решить вопрос о принятии повторного (второго) искового заявления?

**Ответ:** 19.12.2019. (комм.: ч. 1 ст. 133 ГПК «Судья в течение пяти дней со дня поступления искового заявления в суд обязан рассмотреть вопрос о его принятии к производству суда»)

**7.** Учитывая, что суд во второй раз вновь оставил исковое заявление без движения, а истец исправил недостатки в установленный срок, напишите, какая дата будет считаться датой подачи второго искового заявления.

**Ответ:** 12.12.2019. (комм: ч. 2 ст. 136 ГПК «В случае, если заявитель в установленный срок выполнит указания судьи, перечисленные в определении об оставлении заявления без движения, заявление считается поданным в день первоначального представления его в суд»)

**8.** Какого числа началось течение срока на подачу апелляционной жалобы?

**Ответ:** 29.01.2020. (комм. Ч.2 ст. 321 2. ГПК: «Апелляционные жалоба, представление могут быть поданы в течение месяца со дня принятия решения суда в окончательной форме, если иные сроки не установлены настоящим Кодексом»)

**9.** Какого числа закончилось течение срока на подачу апелляционной жалобы?

**Ответ:** 28.02.2020. (комм.ч.1 ст. 108 ГПК: «Срок, исчисляемый месяцами, истекает в соответствующее число последнего месяца срока»)

**10.** Какого числа закончилось бы течение срока на подачу апелляционной жалобы, если считать, что мотивировочная часть решения была составлена и оглашена **29 января 2020 г.**, а стороны присутствовали в судебном заседании при оглашении решения?

**Ответ:** 02.03.2020. (комм. ч.2 ст. 108 ГПК: «В случае, если последний день процессуального срока приходится на нерабочий день, днём окончания срока считается следующий за ним рабочий день»)

**11.** Какого числа закончилось бы течение срока на подачу апелляционной жалобы, если считать, что мотивировочная часть решения была составлена

и оглашена **30 января 2020 г.**, а стороны присутствовали в судебном заседании при оглашении решения?

**Ответ:** 02.03.2020. (комм. ч.1, 2 ст. 108 ГПК: «В случае, если окончание срока, исчисляемого месяцами, приходится на такой месяц, который соответствующего числа не имеет, срок истекает в последний день этого месяца. В случае, если последний день процессуального срока приходится на нерабочий день, днём окончания срока считается следующий за ним рабочий день»)

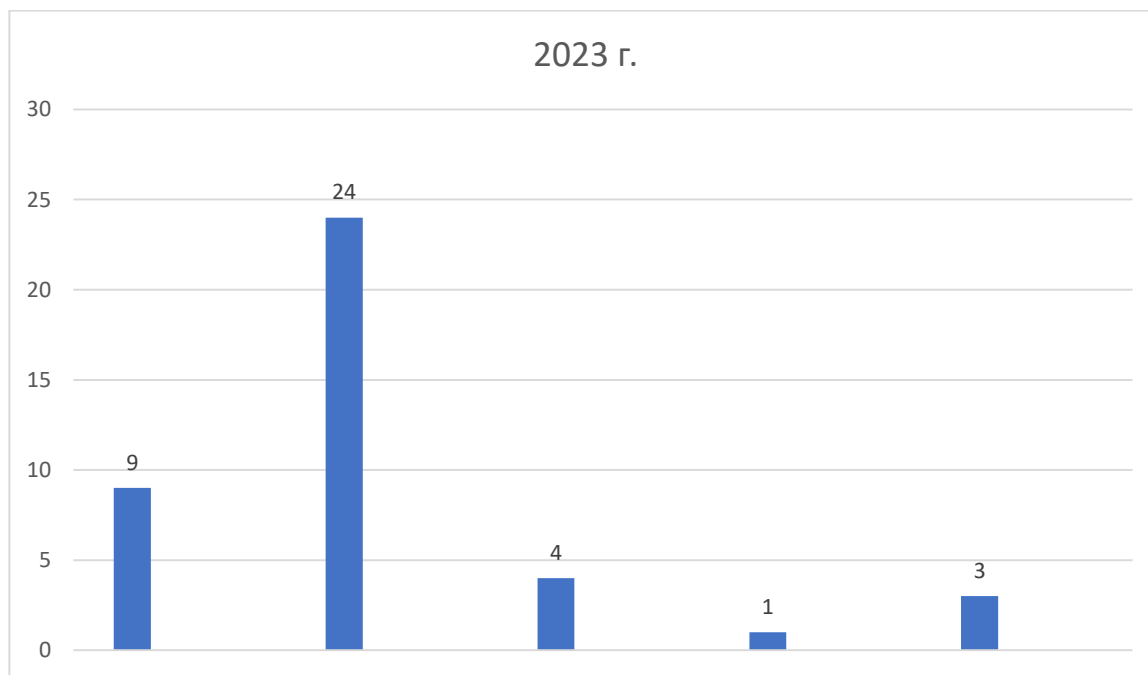
**12.** Представьте, что рассматривается дело в соответствии с положениями главы 22.2. ГПК «Производство по рассмотрению заявления о возвращении ребёнка или об осуществлении в отношении ребёнка прав доступа на основании международного договора Российской Федерации». Заявление было подано **15 апреля 2019 г.** и в этот же день было принято к рассмотрению. По общему правилу такие дела рассматриваются в течение **42 рабочих дней**. Напишите, какого числа должно завершиться рассмотрение данного дела.

**Ответ:** 20.06.2019.

**По 2 балла за каждый полностью правильный ответ, любая ошибка в дате/месяце /годе – 0 баллов, максимум – 24 балла.**

### Задание 13

Внимательно изучите график. Определите значение 6 столбца, который должен быть на графике.



**Ответ:** 48 (число областей в РФ по состоянию на 2023 г.).

**4 балла за правильный ответ.**

#### **Задание 14**

На занятии по уголовному праву изучалась тема «Состав преступления». Преподаватель попросил оценить верность утверждений в соответствии с законодательством РФ, то есть решить, являются ли они верными или неверными. Оцените их и Вы.

1) Субъектом преступления является вменяемое физическое лицо, достигшее возраста уголовной ответственности, а также созданные в соответствии с законодательством юридические лица.

**Ответ:** неверно.

2) По вертикали выделяют следующие виды объектов преступлений: основные, дополнительные и факультативные.

**Ответ:** неверно.

3) Преступление с материальным составом – это преступление, которое считается оконченным с момента наступления общественно опасных последствий.

**Ответ:** верно.

4) Максимальное наказание за приготовление к совершению преступления средней тяжести – не более  $\frac{1}{2}$  максимального размера наиболее строгого вида наказания.

**Ответ:** неверно.

5) Факультативными элементами объективной стороны преступления являются мотив и цель.

**Ответ:** неверно.

6) Преступление, совершённое с двумя формами вины, в целом считается совершённым умышленно.

**Ответ:** верно.

7) Легкомыслие и неосторожность являются разновидностями небрежности.

**Ответ:** неверно.

8) Косвенный умысел в доктрине иначе именуется эвентуальным.

**Ответ:** верно.

9) Совершение преступления в состоянии алкогольного опьянения в уголовном праве РФ всегда является отягчающим обстоятельством.

**Ответ:** неверно.

10) Уголовная ответственность за убийство наступает с 0 часов суток, следующих за днём достижения 16 лет.

**Ответ:** неверно.

11) Убийство, совершённое в состоянии аффекта, наказывается мягче, чем квалифицированное убийство (т.е., предусмотренное ч. 2 ст. 105 УК РФ).

**Ответ:** верно.

**По 1 баллу за каждый верный ответ, максимум – 11 баллов.**

### Задания 15–19

Внимательно посмотрите на обложки заграничных паспортов различных государств. Названия государства на обложке не видно. Но опираясь на язык, эмблему, символы и другие специфические особенности, возможно установить, гражданину какого государства принадлежит паспорт.

Установите соответствие между паспортом и государством, собственностью которого он является.


### Список стран

Словакия, Швейцария, Грузия, Ливан, Албания, Венесуэла, Австралия, Монако, КНР, Эфиопия, Япония, Словения, Финляндия, Израиль, Индия, Венгрия, Босния и Герцеговина, Ватикан, Оман, Беларусь.

1) 	2) 
--	---



3)




4)



5)




6)



7)




8)



9)




10)







11)



12)




13)



14)




15)



16)



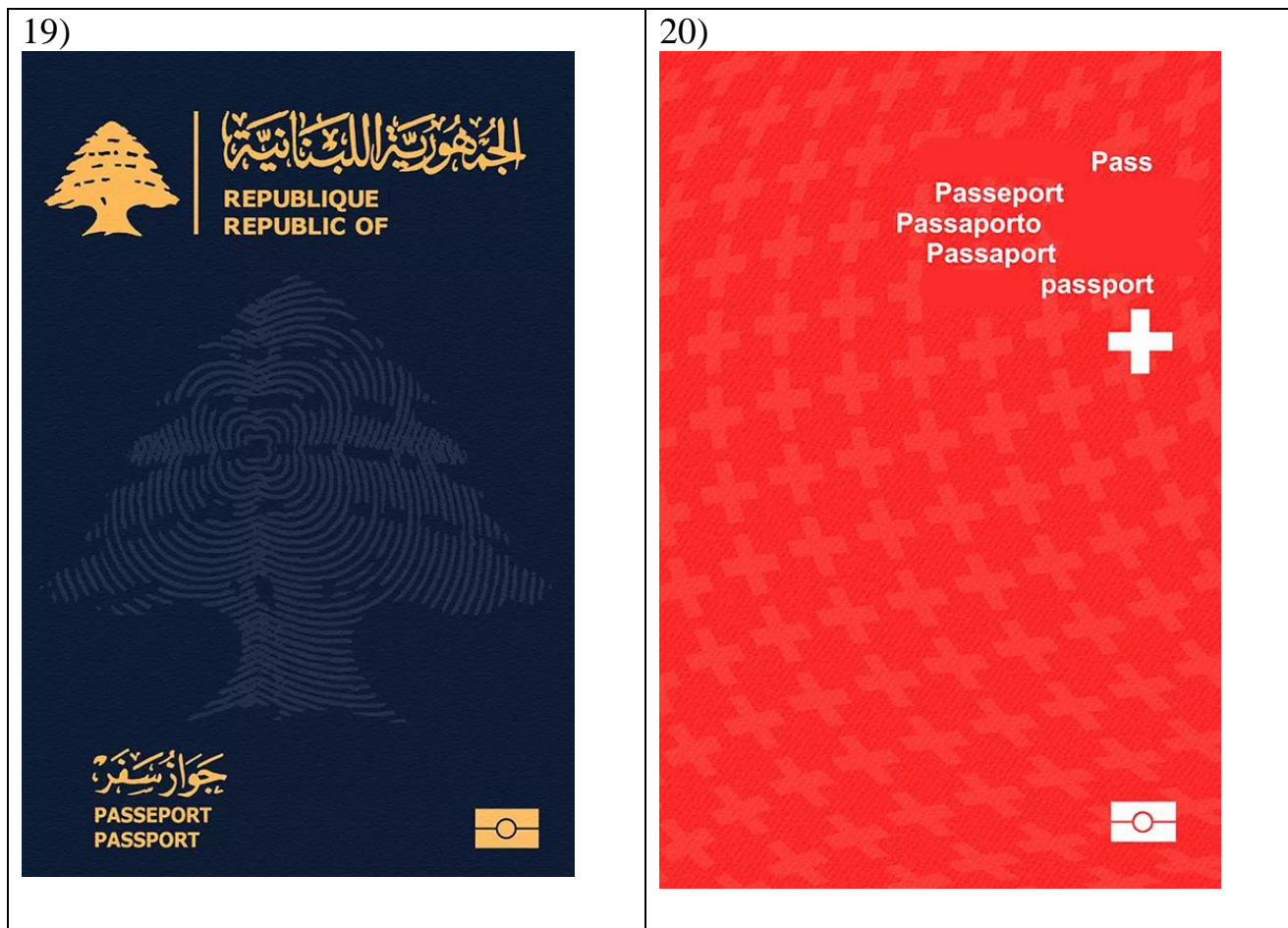
17)



18)







**Ответы и комментарии (№ соответствует фото)**

- 1) Беларусь: название паспорта на 3-х языках, 2 – славянских, на кириллице, изображён герб Республики Беларусь.
- 2) Ватикан: название паспорта на итальянском, эмблема совпадает с флагом Ватикана.
- 3) Венгрия: указание на членство ЕС, название государства на венгерском языке, финно-угорская группа языков, изображён герб Венгрии.
- 4) Израиль: язык – иврит, символ государства – Менора.
- 5) Финляндия: указание на членство ЕС, название «Суоми», паспорт написан на двух языках: шведском и финском.
- 6) Япония: японский язык, указан символ Императора Японии – рисунок хризантемы
- 7) КНР: китайский язык, 5 звёзд, как на флаге.
- 8) Австралия: кенгуру на гербе.
- 9) Албания: написано название государства на албанском языке – Shqipëria.
- 10) Грузия: названием на грузинском языке + герб Грузии.
- 11) Оман: название на арабском языке, указание на название монархии «Султанат».
- 12) Босния и Герцеговина: название паспорта на 4-х языках, изображён герб государства.

- 13) Индия: название паспорта на хинди, изображена эмблема государства – Львиная капитель.
- 14) Словакия: изображены герб Словакии (вопрос с подвохом, по-словацки название государства похоже на республику Словения), указание на членство ЕС.
- 15) Словения: изображён герб Словении, на гербе горы (в Словении – Альпы), указание на членство в ЕС.
- 16) Эфиопия: амхарский язык, герб Эфиопии.
- 17) Монако: название паспорта написано на французском языке, слово «княжество» по-английски и по-французски пишется похоже (англ. principality и франц. principauté).
- 18) Венесуэла: указание на участие в организации Mercosur, т.е. Латинская Америка, кроме того указание, что республика является Боливарианской).
- 19) Ливан: три языка (арабский, французский, английский), изображен символ государства – кедр.
- 20) Швейцария: название паспорта на 4-х официальных языках Швейцарии + английский, изображён символ государства (белый крест на красном фоне).

**По 1 баллу за каждый правильный ответ, максимум – 20 баллов.**

### Задания 20–26

Изучите ведомость о доходах юриста Галкиной А.А. за 2022 г.

Месяц	Составная часть	Размеры	Итог без премии	Премия	Итог с премией
янв.22	оклад	120 000,00	500 000,00	0,00	500 000,00
	стимулирующая выплата за высокие результаты	230 000,00			
	стимулирующая выплата за качественное выполнение работы	150 000,00			
фев.22	оклад	120 000,00	500 000,00	0,00	500 000,00
	стимулирующая выплата за высокие результаты	230 000,00			
	стимулирующая выплата за качественное выполнение работы	150 000,00			
мар.22	оклад	120 000,00	500 000,00	500 000,00	1 000 000,00
	стимулирующая выплата за высокие результаты	230 000,00			
	стимулирующая выплата за качественное выполнение работы	150 000,00			
	квартальная премия	500 000,00			
апр.22	оклад	40 000,00	700 000,00	0,00	700 000,00
	стимулирующая выплата за высокие результаты	80 000,00			
	стимулирующая выплата за качественное выполнение работы	80 000,00			
	ежегодный оплачиваемый отпуск за 2021 г.	500 000,00			
май.22	оклад	120 000,00	500 000,00	0,00	500 000,00
	стимулирующая выплата за высокие результаты	230 000,00			

Всероссийская олимпиада школьников. Право. 2023–2024 уч. г.  
Муниципальный этап. 10 класс. Ответы

	стимулирующая выплата за качественное выполнение работы	150 000,00			
июн.22	оклад	120 000,00	500 000,00	900 000,00	1 400 000,00
	стимулирующая выплата за высокие результаты	230 000,00			
	стимулирующая выплата за качественное выполнение работы	150 000,00			
	полугодовая премия	900 000,00			
июл.22	оклад	120 000,00	500 000,00	0,00	500 000,00
	стимулирующая выплата за высокие результаты	230 000,00			
	стимулирующая выплата за качественное выполнение работы	150 000,00			
авг.22	оклад	40 000,00	700 000,00	0,00	700 000,00
	стимулирующая выплата за высокие результаты	120 000,00			
	стимулирующая выплата за качественное выполнение работы	140 000,00			
	ежегодный оплачиваемый отпуск за 2021 г.	400 000,00			
сен.22	оклад	120 000,00	500 000,00	700 000,00	1 200 000,00
	стимулирующая выплата за высокие результаты	230 000,00			
	стимулирующая выплата за качественное выполнение работы	150 000,00			
	квартальная премия	700 000,00			
окт.22	оклад	120 000,00	500 000,00	0,00	500 000,00
	стимулирующая выплата за высокие результаты	230 000,00			
	стимулирующая выплата за качественное выполнение работы	150 000,00			
ноя.22	оклад	120 000,00	500 000,00	0,00	500 000,00
	стимулирующая выплата за высокие результаты	230 000,00			
	стимулирующая выплата за качественное выполнение работы	150 000,00			
дек.22	оклад	120 000,00	500 000,00	1 500 000,00	2 000 000,00
	стимулирующая выплата за высокие результаты	230 000,00			
	стимулирующая выплата за качественное выполнение работы	150 000,00			
	годовая премия	1 500 000,00			

**20.** Рассчитайте общую величину налоговой базы налога на доходы физических лиц, которая будет использоваться для расчёта налога в отношении Галкиной А.А.

**Ответ:** 10 000 000 рублей (нужно сложить все числа).

**21.** Напишите предельную величину налоговой базы, для которой используется обычная (общая / не повышенная) ставка налога на доходы физических лиц.

**Ответ:** 5 000 000 рублей.



**22.** Чему равна повышенная ставка налога на доходы физических лиц, при превышении соответствующего размера налоговой базы. Напишите полное, общее значение ставки в процентах (не разницу).

**Ответ:** 15 %.

**23.** Какая сумма НДФЛ подлежит к уплате работодателем Галкиной А.А.?

**Ответ:** 1 400 000 / 1 300 000 рублей.

**24.** Какая сумма НДФЛ подлежит к уплате самой Галкиной А.А.?

**Ответ:** 0 / 100 000 рублей.

**25.** Какой размер отпускных получила Галкина А.А. в 2022 г. без учёта НДФЛ?

**Ответ:** 775 000 / 900 000 рублей.

**26.** В каком квартале совокупный доход Галкиной занимает третье место по убыванию среди показателей кварталов за 2022 г?

**Ответ:** третий квартал.

Первый квартал – 2 000 000

Второй квартал – 2 600 000

Третий квартал – 2 400 000

Четвёртый квартал – 3 000 000

**По 2 балла за каждый правильный ответ, максимум за блок заданий – 14 баллов.**

### Задания 27–28

Внимательно изучите приведённую схему.

В соответствии с программой развития дорожной сети через участок Иванова Ивана Ивановича будет проходить автомагистраль N. Границы участка выделены чёрной линией, границы планируемой автомагистрали – красной линией.



27. Какое ограниченное вещное право устанавливается на часть земельного участка, по которому пройдёт дорога, обозначенная красной линией? Напишите его полное наименование.

**Ответ:** сервитут / публичный сервитут (4 балла).

28. Вставьте одно пропущенное слово во второй строке названия схемы «площадь земельного участка с \_\_\_\_\_ номером».

**Ответ:** кадастровым (2 балла).

**Максимум за блок заданий – 6 баллов.**

### Задание 29

Распределите дела по подведомственности между нормативными правовыми актами (НПА), которые регулируют данные отношения.

1) Вынесение судебного приказа	А) Регулируется ГПК РФ
2) Банкротство физического лица в судебном порядке	Б) Регулируется АПК РФ
3) Дела по корпоративным спорам, связанным с созданием юридического лица, управлением им или участием в юридическом лице, являющимся некоммерческой организацией (кроме случаев, когда дело отнесено к исключительной подсудности арбитражных судов)	В) Регулируется КАС РФ
4) Расторжение брака при наличии согласия обоих супругов и отсутствии общих несовершеннолетних детей	Г) Регулируется УПК РФ
5) Оспаривание НПА Правительства РФ	Д) Регулируется ГПК, АПК, КАС РФ
6) Уголовное дело небольшой тяжести	Е) Не производится в суде
7) Отказ в государственной регистрации юридического лица	
8) Признание гражданина безвестно отсутствующим	
9) Психиатрическое освидетельствование гражданина в недобровольном порядке	
10) Дела, в которых часть требований подлежит рассмотрению по правилам ГПК РФ, а часть – по правилам АПК РФ, при этом разделение требований невозможно	

### Ответы

1	2	3	4	5	6	7	8	9	10
Д	Б	А	Е	В	Г	Б	А	В	А

**По 1 баллу за каждый правильный ответ, максимум – 10 баллов.**

### Задания 30–31

На долю Москвы за много веков выпало много трудностей, но всегда Москва была, есть и будет символом России. Гимн Москвы, несомненно, является одним из самых известных символов нашего города.

**30.** Гимн Москвы поделен на 6 частей (блоков). Распределите блоки в правильной последовательности, чтобы получился гимн Москвы.

1) Мы запомним суровую осень,  
Скрежет танков и отблеск штыков,  
И в веках будут жить двадцать восемь  
Самых храбрых твоих сынов.

2) Но Москвою привык я гордиться  
И везде повторял я слова:  
Дорогая моя столица,  
Золотая моя Москва!

3) В городах и далеких станицах  
О тебе не умолкнет молва,  
Дорогая моя столица,  
Золотая моя Москва!

4) И врагу никогда не добиться,  
Чтоб склонилась твоя голова,  
Дорогая моя столица,  
Золотая моя Москва!

5) Я по свету немало хаживал,  
Жил в землянке, в окопах, в тайге,  
Похоронен был дважды заживо,  
Знал разлуку, любил в тоске.

6) Я люблю подмосковные рощи  
И мосты над твоею рекой,  
Я люблю твою Красную площадь  
И кремлевских курантов бой.

**Ответ:** 5) 2) 6) 3) 1) 4).

Верная последовательность – **4 балла**, любая ошибка – **0 баллов**.

**31.** Напишите фамилию композитора, который написал гимн Москвы.

**Ответ:** Дунаевский (**2 балла**, любая ошибка – **0 баллов**).

**Максимум за блок заданий – 6 баллов.**

### Задание 32

Рассмотрите бланк документа. Заполните пропуски в документе, обозначенные цифрами 1, 2, 3, 4, 5. Слово № 4 используется два раза.

1 \_\_\_\_\_

**О РОЖДЕНИИ**

\_\_\_\_\_ фамилия  
\_\_\_\_\_ имя, отчество  
родился(лась) \_\_\_\_\_ число, месяц, год (цифрами и прописью)

2 \_\_\_\_\_ рождения

о чем \_\_\_\_\_ года \_\_\_\_\_ месяца \_\_\_\_\_ числа  
составлена запись акта о 3 \_\_\_\_\_ № \_\_\_\_\_

Отец \_\_\_\_\_ фамилия  
\_\_\_\_\_ имя, отчество  
\_\_\_\_\_ гражданство  
4 \_\_\_\_\_ (вносится по желанию отца)

Мать \_\_\_\_\_ фамилия  
\_\_\_\_\_ имя, отчество  
\_\_\_\_\_ гражданство  
4 \_\_\_\_\_ (вносится по желанию матери)

Место государственной регистрации \_\_\_\_\_  
руководитель органа записи актов 5 \_\_\_\_\_ состояния

Дата выдачи « \_\_\_\_\_ » \_\_\_\_\_ г.

Руководитель органа  
записи актов гражданского состояния \_\_\_\_\_

III-МЮ № \_\_\_\_\_

Госком. №709, Москва, 1998.

### Ответы:

1 – Свидетельство

2 – место

3 – рождении

4 – национальность

5 – гражданского

По 2 балла за каждый правильный ответ, максимум – 10 баллов.



**Задания 33–39**

У Петра есть сумма 3 000 000 рублей. Пётр решил разделить эту сумму на две части: 2 000 000 рублей положить в банк «М» на срочный вклад, а 1 000 000 рублей – в банк «Р» на накопительный счёт.

Вклад был открыт с 1 января по 31 декабря 2022 г.

Накопительный счёт был открыт с 1 января по 31 июля 2022 г.

Изучите условия банковского вклада и накопительного счёта.

<b>Условия</b>	<b>Вклад в банке «М»</b>	<b>Накопительный счёт в банке «Р»</b>
<b>Минимальная сумма открытия</b>	25 000 рублей	0 рублей
<b>Возможность снятия</b>	Не предусмотрена	Предусмотрена
<b>Возможность пополнения</b>	Не предусмотрена	Предусмотрена
<b>Изменение процентной ставки</b>	Банк может изменить ставку в одностороннем порядке	Банк не может изменить ставку до конца срока
<b>Показатель % ставки</b>	Фиксированная на 1 год – 10 % годовых	1–4-й месяцы – 1 % в месяц, 5–7-й месяцы – 0,5 % в месяц
<b>Начисление %</b>	Ежемесячно на всю сумму	Ежемесячно, на минимальный остаток за календарный месяц (т.е. с 1 по 30/31 число)
<b>Капитализация процентов</b>	Не предусмотрена	Не предусмотрена
<b>Выплата %</b>	В конце срока	В конце срока
<b>Максимальная сумма для начисления %</b>	1 000 000 рублей. На сумму свыше проценты начисляются по ставке 1 % годовых	Не установлена
<b>Страхование вкладов в Агентстве по страхованию вкладов</b>	да	да

Пётр активно пополнял/снимал деньги с накопительного счёта два раза в месяц: 1 и 15 числа каждого месяца. После 15 числа и до конца календарного месяца сумма денег на счёте не менялась.

В приведённой таблице вы можете увидеть изменение количества денег на накопительном счёте.

Дата	Остаток на накопительном счёте
01 января	1 000 000 рублей
15 января	1 500 000 рублей
01 февраля	500 000 рублей
15 февраля	2 000 000 рублей
01 марта	1 000 000 рублей
15 марта	1 000 000 рублей
1 апреля	3 000 000 рублей
15 апреля	1 000 000 рублей
1 мая	1 000 000 рублей
15 мая	2 000 000 рублей
1 июня	3 000 000 рублей
15 июня	2 000 000 рублей
1 июля	1 500 000 рублей
15 июля	1 000 000 рублей

**33.** Какой итоговый доход Пётр получит по вкладу (без учёта необходимости уплаты налогов)?

**Ответ:** 110 000. ( $1\,000\,000 \cdot 10\% + 1\,000\,000 \cdot 1\% = 110\,000$  рублей) (2 балла)

**34.** Какой доход по накопительному счёту Пётр получит в январе, в феврале и июле?

**Ответ:** январь – 10000, февраль – 5000, июль – 5000 (по 2 балла за каждый верный ответ, всего – 6 баллов).

январь: минимальная сумма  $1\,000\,000 \cdot 1\% = 10\,000$  рублей

февраль: минимальная сумма  $500\,000 \cdot 1\% = 5\,000$  рублей

июль: минимальная сумма  $1\,000\,000 \cdot 0,5\% = 5\,000$  рублей

**35.** Какой итоговый доход Пётр получит по накопительному счёту?

**Ответ:** 55000. (4 балла)

Таблица для расчётов

месяц	Минимальная сумма за месяц	Процентная ставка в месяц	Доход
Январь	1 000 000	1 %	10 000
Февраль	500 000	1 %	5 000
Март	1 000 000	1 %	10 000
Апрель	1 000 000	1 %	10 000
Май	1 000 000	0,5 %	5 000
Июнь	2 000 000	0,5 %	10 000
Июль	1 000 000	0,5 %	5 000

**36.** Представим, что Пётр собрался забрать вклад 14 января 2023 г., но у банка отозвали лицензию 10 января 2023 г. Какую сумму он получит через агентство по страхованию вкладов?

**Ответ:** 1400000. (2 балла)

**37.** Как в гражданском праве иначе именуется вклад? Напишите одно слово в именительном падеже.

**Ответ:** депозит. (2 балла)

**38.** Как называется лицо, которое вносит деньги в банк по договору банковского вклада?

**Ответ:** вкладчик. (2 балла)

**39.** Может ли владельцем депозитного сертификата быть физическое лицо?

**Ответ:** нет, не может. (1 балл)

**Максимум за блок заданий – 19 баллов.**

### Задания 40–50

Перед вами изображение картины английской художницы, представительницы постимпрессионизма в живописи. В январе 1946 года она отправилась в Германию и провела там три месяца, наблюдая за судебными процессами из зала суда. Результатом стала большая картина. Внимательно рассмотрите изображение картины и ответьте на вопросы.



Перед вами изображение картины английской художницы, представительницы постимпрессионизма в живописи. В январе 1946 года она отправилась в Германию и провела там три месяца, наблюдая за судебными процессами из зала суда. Результатом стала большая картина. Внимательно рассмотрите изображение картины и ответьте на вопросы.

**40.** В каком городе проходил судебный процесс, который изображён на картине?

**Ответ:** Нюрнберг (1 балл)

**41.** Впервые в истории обвинения в международных преступлениях были вынесены не государствам, а лицам, действовавшим от их имени. Какие обвинения были выдвинуты международными обвинителями? Выберите все верные варианты.

- А) преступления против мира
- Б) преступления против человечности
- В) военные преступления
- Г) общий план или заговор

**Ответ:** АБВГ (за каждый правильный ответ – 1 балл, максимум – 4 балла).

**42.** В ходе какой конференции был принят устав данного судебного процесса?

- А) Лондонская
- Б) Ялтинская
- В) Тегеранская
- Г) Московская
- Д) Берлинская

**Ответ:** А (2 балла).

**43.** Кто был обвинителем на данном процессе от СССР?

- А) Г.К. Жуков
- Б) И.В. Сталин
- В) Л.П. Берия
- Г) Р.А. Руденко
- Д) И.Т. Никитченко
- Е) А.Я. Вышинский

**Ответ:** Г (2 балла).

**44.** В каком городе проходил процесс над японскими преступниками, которые совершили преступления во время II Мировой войны?

**Ответ:** Токио (1 балл).

**45.** Какой орган ООН установил дату 27 января Всемирным днём памяти жертв Холокоста?

- А) Генеральная Ассамблея ООН
- Б) Совет Безопасности ООН
- В) Суд ООН
- Г) Совет по опеке ООН
- Д) Экономический и социальный совет ООН
- Е) секретариат ООН

**Ответ:** А (2 балла).



**46.** Какой знак носили еврейские заключённые во время заточения в концлагере?

- А) крест
- Б) треугольник
- В) ромб
- Г) пятиконечная звезда
- Д) шестиконечная звезда

**Ответ: Д (1 балл).**

**47.** Как называлась конференция в 1942 году, на которой были определены пути и средства «окончательного решения еврейского вопроса»?

- А) Ванзейская
- Б) Пражская
- В) Нюрнбергская
- Г) Римская
- Д) Мюнхенская
- Е) Гамбургская
- Ж) Хадамарская

**Ответ: А (1 балл).**

**48.** Этот советский офицер сумел организовать единственное успешное восстание в концлагере Собибор. Как его звали?

- А) Иван Кожедуб
- Б) Оскар Шиндлер
- В) Зоя Космодемьянская
- Г) Александр Матросов
- Д) Александр Печерский

**Ответ: Д (1 балл).**

**49.** Как называется главный музей в Москве, который расположен около Поклонной горы и посвящён подвигу, героизму и борьбе советского народа во время Великой Отечественной Войны?

- А) Музей Великой Отечественной войны
- Б) Музей Победы
- В) Музей II Мировой войны
- Г) Государственный исторический музей
- Д) Военный музей Москвы

**Ответ: Б (2 балла).**

**50.** Картина, представленная в задании, написана в жанре постимпрессионизма, направления в живописи, в основу которого заложен отказ от эстетики, присущей импрессионизму и реализму. Ниже даны некоторые черты постимпрессионизма в живописи. Выберите все черты, характерные для представленной картины.

- А) яркая цветовая гамма
- Б) акцент сделан на сути вещей и явлений материального мира
- В) изображение вызывает ощущение, что оно растянуто во времени
- Г) вы видите символику, намёки и отсылки к чему-либо

**Ответ: БВГ (1 балл, любая ошибка – 0 баллов).**

**Максимум за блок заданий – 16 баллов.**

### Задание 51

Соотнесите название закона и категорию, к которой он относится.

Название закона	Категория
1) «О защите прав потребителей»	А) является федеральным законом
2) «О Высшем Арбитражном Суде Российской Федерации»	Б) является федеральным конституционным законом
3) «О Конституционном Суде Российской Федерации»	В) изначально является законом РФ, позднее вносились изменения и дополнения путём принятия федерального закона
4) «О мировом суде Российской Федерации»	Г) ранее был закон (федеральный/федеральный конституционный/закон РФ), но сейчас отменён
5) «О статусе судей в Российской Федерации»	Д) такого закона никогда не было в Российской Федерации
6) «О Генеральной прокуратуре Российской Федерации»	
7) Трудовой кодекс Российской Федерации	
8) «О дисциплинарном судебном присутствии»	
9) «О Сберегательном банке РФ»	
10) «О гражданстве»	

### Ответы

1	2	3	4	5	6	7	8	9	10
В	Д	Б	Д	В	Д	А	Г	Д	А

**По 1 баллу за каждое правильное соотнесение, максимум – 10 баллов.**

### Задание 52

Распределите уголовные дела в зависимости от видов уголовного преследования.

1) убийство	А) частное обвинение
2) умышленное причинение лёгкого вреда здоровью (простой состав, не квалифицированный)	Б) частно-публичное обвинение
3) клевета (простой состав, не квалифицированный)	В) публичное обвинение
4) побои	
5) необоснованный отказ в приёме на работу или необоснованное увольнение беременной женщины или женщины, имеющей детей в возрасте до трёх лет	
6) кража	

### Ответы

1	2	3	4	5	6
В	А	А	Б	Б	В

**По 1 баллу за каждый верный ответ, максимум – 6 баллов.**

### Задание 53

Напишите аббревиатуры устойчивых выражений. Ответ напишите на кириллице. Например, общество с ограниченной ответственностью – ООО, программа Организации объединённых наций по окружающей среде – ЮНЕП.

### Выражения

- 1) Международная организация гражданской авиации
- 2) Федеральная служба по надзору в сфере защиты прав потребителей и благополучия человека
- 3) Собрание актов Президента и Правительства
- 4) Минимальный размер оплаты труда
- 5) Международный трибунал по бывшей Югославии

### Ответы

- 1) ИКАО
- 2) РОСПОТРЕБНАДЗОР
- 3) САПП
- 4) МРОТ
- 5) МТБЮ

**По 2 балла за каждый правильный ответ, максимум – 10 баллов.**

### Задание 54

Заполните схему юридических фактов. Вам предложены названия видов юридических фактов. Вставьте их в пропуски.

- А) деяния
- Б) деликты
- В) преступления
- Г) юридические акты
- Д) проступки
- Е) правомерные
- Ж) неправомерные
- З) события
- И) состояния
- К) абсолютные



### Ответы

1	2	3	4	5	6	7	8	9	10
3	К	И	А	Е	Г	Ж	Д	Б	В

По 1 баллу за каждый верный ответ, максимум – 10 баллов.



### Задание 55

Соотнесите административный центр субъекта и центр федерального округа, где он находится. Обратите внимание, что в вариантах ответа

- не все города являются центрами федеральных округов;
- дано больше городов, чем необходимо использовать;
- один и тот же город может использоваться несколько раз.

1) Грозный	А) Архангельск
2) Севастополь	Б) Пятигорск
3) Уфа	В) Симферополь
4) Анадырь	Г) Владивосток
5) Красноярск	Д) Хабаровск
6) Мурманск	Е) Нижний Новгород
7) Биробиджан	Ж) Краснодар
	З) Ростов-на-Дону
	И) Якутск
	К) Ставрополь
	Л) нет верного ответа



**Ответы**

1	2	3	4	5	6	7
Б	З	Е	Г	Л	Л	Г

**Обоснование**

- 1) Грозный – Чечня – СКФО – Пятигорск
- 2) Севастополь – ГФЗ Севастополь – ЮФО – Ростов-на-Дону
- 3) Уфа – Башкирия – ПФО – Нижний Новгород
- 4) Анадырь – ЧАО – ДвФО – Владивосток
- 5) Красноярск – Красноярский край – СФО – Новосибирск
- 6) Мурманск – Мурманская область – СЗФО – Санкт-Петербург
- 7) Биробиджан – Еврейская автономная область – ДвФО – Владивосток

**По 1 баллу за каждый правильный ответ, максимум – 7 баллов.**

**Задание 56**

Установите соответствие между организацией и минимальным размером уставного (складочного/иного) капитала.

1) Общество с ограниченной ответственностью	А) 10 000 рублей
2) Публичное акционерное общество	Б) 50 000 рублей
3) Непубличное акционерное общество	В) 100 000 рублей
4) Полное товарищество	Г) 1 000 000 рублей
5) Товарищество на вере	Д) 3 000 000 рублей
6) Производственный кооператив	Е) не установлен законодательно
7) Центральный Банк РФ	Ж) нет верного ответа

**Ответы**

1	2	3	4	5	6	7
А	В	А	Е	Е	Е	Ж

**По 1 баллу за каждый правильный ответ, максимум – 7 баллов.**

### Задание 57

К нотариусу обратились лица, вступающие в брак, желающие заключить брачный договор. Изучите представленные тезисы документа и отметьте, соответствуют ли они закону, то есть являются ли они верными или неверными.

- 1) На всё имущество, нажитое супругами совместно в браке, независимо от того на чьи доходы оно было приобретено, устанавливается режим совместной собственности.
- 2) Всё имеющееся имущество на момент заключения брака является раздельной собственностью, всё будущее имущество супругов является совместной собственностью.
- 3) Супруг обязан выплачивать супруге алименты ежемесячно в размере 5 прожиточных минимумов, установленных субъектом РФ, в котором они совместно проживают.
- 4) В случае рождения ребёнка супруг должен передать в личную собственность супруге 1 000 000 (один миллион) рублей.
- 5) Все обязанности по воспитанию общих несовершеннолетних детей несёт супруга.
- 6) Драгоценности, приобретённые во время брака, являются собственностью того супруга, который их приобрёл.
- 7) В случае расторжения брака супруге будут переданы все объекты движимого имущества, в том числе животные, находящиеся в совместной собственности.
- 8) В случае расторжения брака супруг ни в каком случае не имеет права требовать содержания от супруги.
- 9) Данный договор не подлежит оспариванию в судах общей юрисдикции.
- 10) Брачный договор вступает в силу в день подачи заявления о заключении брака.

### Ответы

1	2	3	4	5
верно	верно	верно	верно	неверно
6	7	8	9	10
верно	верно	неверно	неверно	неверно

**По 1 баллу за каждый правильный ответ, максимум – 10 баллов.**